

Муниципальное автономное общеобразовательное учреждение
средняя общеобразовательная школа с углубленным изучением отдельных предметов
№ 74

620109 г. Екатеринбург, ул. Крауля, 46 телефон - факс (343) 242-22-10
ИНН 6658068601 КПП 665801001 e-mail: skool74@mail.ru

РАССМОТРЕНО на заседании
методического объединения
МАОУ СОШ с углубленным изучением
отдельных предметов № 74
(протокол от 23 декабря 2020 г. № 18)

УТВЕРЖДАЮ:
Директор МАОУ СОШ с углубленным
изучением отдельных предметов № 74
_____ Е.В. Кожевникова
Приказ от 03.01.2021г. № 31 -уп

Контрольные измерительные материалы
для проведения промежуточной аттестации
по биологии
предмет

в 9 классе

Составил Беглянина Е.Г.
Учитель биология
Первая КК

**Спецификация
итоговой работы для проведения промежуточной аттестации обучающихся 9 класса
по биологии**

1. Назначение работы

Работа предназначена для проведения процедуры итогового контроля индивидуальных достижений обучающихся 9 класса в образовательном учреждении по предмету «Биологии».

2. Документы, определяющие содержание работы

Содержание и структура итоговой работы по предмету «Биология» разработаны на основе следующих документов:

1) Федеральный компонент государственного стандарта основного общего образования по биологии (приказ Минобрнауки России от 05.03.2004 № 1089 «Об утверждении Федерального компонента государственных стандартов начального общего, основного общего и среднего (полного) общего образования»).

2) Спецификации контрольно-измерительных материалов для проведения в 2019 году ОГЭ по биологии, подготовленной ФГБНУ «Федеральный институт педагогических измерений».

3) учебно-методический комплект по биологии Драгомилов А.Г., Маш Р.Д. Биология: 8 класс: Учебник для учащихся общеобразовательных учреждений. – М.: Вентана-Граф, 2019

3. Содержание работы

На основании документов, перечисленных в п.2 Спецификации, разработан кодификатор, определяющий в соответствии с требованиями ФГОС основного общего образования планируемые результаты освоения основной образовательной программы основного общего образования по предмету «Биология» для проведения итогового контроля индивидуальных достижений обучающихся.

В работе представлены задания базового и повышенного уровня.

Распределение заданий по основным разделам

Раздел курса	Число заданий
Организм человека. Общий обзор.	2
Опорно-двигательная система.	1
Кровь и кровообращение.	3
Дыхательная система	2
Пищеварительная система	2
Обмен веществ и энергии. Витамины.	2
Мочевыделительная система	1
Кожа	1
Эндокринная система	1
Нервная система.	1
Органы чувств. Анализаторы	1
Индивидуальное развитие организма	1

Поведение и психика	1
Итого:	19

4. Время выполнения работы

Примерное время на выполнение заданий составляет:

- 1) для заданий базового уровня сложности – 1 минута;
- 2) для заданий повышенной сложности – от 2 до 3 минут;
- 3) для заданий высокого уровня сложности – до 5 минут

На выполнение всей работы отводится 45 минут.

5. Дополнительные материалы и оборудование

При проведении работы дополнительных материалов и оборудования не требуется

6. Оценка выполнения отдельных заданий и работы в целом

1. За верное выполнение каждого из заданий A_1 - A_{13} выставляется 1 балл, в другом случае – 0 баллов.
2. За верное выполнение каждого из заданий B_1 - B_4 выставляется 2 балла.
3. За ответы на задания B_1 выставляется 1 балл, если в ответе указаны две любые цифры, представленные в эталоне ответа, и 0 баллов во всех других случаях. Если обучающейся указывает в ответе больше символов, чем в правильном ответе, то за каждый лишний символ снижается 1 балл (до 0 баллов включительно).
4. За ответ на задания B_2 – B_4 выставляется 1 балл, если допущена одна ошибка, и 0 баллов, если допущено две и более ошибки.
5. Задания C_1 и C_2 оцениваются в зависимости от полноты и правильности ответа. Максимальный первичный балл за выполнение всей работы – 27.

Шкала перевода первичного балла за выполнении контрольной работы в отметку по 5-ной шкале

Отметка по 5-ной шкале	2	3	4	5
Первичный балл	0-9	10-16	17-22	23-27

7. План работы

Условные обозначения: Уровень сложности: Б – базовый уровень сложности, П – повышенный уровень, В – высокий уровень

Тип задания: ВО – с выбором ответа, КО – краткий ответ, РО – с развернутым ответом.

№	Блок содержания	Объект оценивания	Код проверяемых умений	Тип задания	Уровень сложности	Максимальный балл за выполнение
1.	Организм человека. Общий обзор.	Сходство человека с животными и отличие от них	1.2.,2.1.1, 2.1.2.,2.3.	ВО	Б	1
2.	Опорно-двигательная система	Опора и движение. Опорно-двигательный аппарат.	1.2.,2.3.	ВО	Б	1
3.	Кровь и кровообращение	Внутренняя среда организма: кровь, лимфа, тканевая жидкость. Группы крови. Переливание крови. Иммуитет. Кровеносная и лимфатическая системы. Транспорт веществ.	1.1.,1.2., 2.1.2.,2.3.	ВО	Б	1
4.	Дыхательная система	Дыхание. Система дыхания.	1.1.,1.2., 2.3.	ВО	Б	1
5.	Пищеварительная система	Питание. Система пищеварения. Роль ферментов в пищеварении.	1.1.,1.2., 2.3.	ВО	Б	1
6.	Обмен веществ и энергии. Витамины.	Обмен веществ и превращение энергии в организме человека. Витамины.	1.1.,1.2., 2.3.	ВО	Б	1
7.	Мочевыделительная система	Выделение продуктов жизнедеятельности. Система выделения.	1.1.,1.2., 2.3.	ВО	Б	1
8.	Кожа	Покровы тела и их функции.	1.2.,2.3.	ВО	Б	1
9.	Эндокринная система	Железы внутренней секреции. Гормоны.	1.1.,1.2., 2.3.	ВО	Б	1
10.	Нервная система	Нейро-гуморальная регуляция процессов жизнедеятельности организма. Нервная система. Рефлекс. Рефлекторная дуга.	1.2., 2.3.	ВО	Б	1
11.	Органы чувств. Анализаторы	Органы чувств, их роль в жизни человека.	1.2.,2.3.	ВО	Б	1
12.	Индивидуальное развитие организма	Размножение и развитие организма человека. Наследование признаков у человека. Наследственные болезни, их причины и предупреждение.	1.1.,1.2., 2.1.2	ВО	Б	1

13.	Поведение и психика	Психология и поведение человека. Высшая нервная деятельность Условные и безусловные рефлексы, их биологическое значение.	1.2.	ВО	Б	1
14.	Кровь и кровообращение	Внутренняя среда организма: кровь, лимфа, тканевая жидкость. Группы крови. Переливание крови. Иммуитет. Кровеносная и лимфатическая системы. Транспорт веществ. Умение проводить множественный выбор	1.1.,1.2., 2.1.2,2.4., 2.5.	КО	П	2
15.	Обмен веществ и энергии. Витамины.	Обмен веществ и превращение энергии в организме человека. Витамины. Умение устанавливать соответствие	1.1.,1.2., 2.4.,2.5.	КО	П	2
16.	Пищеварительная система	Питание. Система пищеварения. Роль ферментов в пищеварении. Умение определять последовательности биологических процессов, явлений, объектов	1.1.,1.2., 2.2.,2.5.	КО	П	2
17.	Организм человека. Общий обзор.	Сходство человека с животными и отличие от них Умение включать в биологический текст пропущенные термины и понятия из числа предложенных	1.2.,2.1.1., 2.1.2., 2.4.,2.5.,	КО	П	2
18.	Кровь и кровообращение	Внутренняя среда организма: кровь, лимфа, тканевая жидкость. Группы крови. Переливание крови. Иммуитет. Кровеносная и лимфатическая системы. Транспорт веществ. Умение работать с текстом биологического содержания (понимать, сравнивать, обобщать)	1.1.,1.2., 2.1.2, 2.6.	РО	П	3
19.	Дыхательная система	Дыхание. Система дыхания. Умение работать со статистическими данными, представленными в табличной форме	1.1.,1.2., 2.4.,2.6., 3.1.,3.2., 3.3.	РО	В	3
						27

КОДИФИКАТОР

Перечень элементов содержания, проверяемых на контрольной работе по биологии

Код элементов	Проверяемые умения
1. Знать/понимать	
1.1	сущность биологических процессов: обмен веществ и превращение энергии, питание, дыхание, выделение, транспорт веществ, рост, развитие, размножение, наследственность и изменчивость, регуляция жизнедеятельности организма, раздражимость
1.2	особенности организма человека, его строения, жизнедеятельности, высшей нервной деятельности и поведения.
2. Уметь	
2.1	объяснять
2.1.1	родство человека с млекопитающими животными, место и роль человека в природе;
2.1.2	причины наследственности и изменчивости, проявления наследственных заболеваний, иммунитета у человека;
2.1.3	роль гормонов и витаминов в организме.
2.2	описывать биологические объекты
2.3	распознавать и описывать на рисунках (фотографиях) органы и системы органов человека
2.4	сравнивать биологические объекты (клетки, ткани, органы и системы органов, представителей отдельных систематических групп) и делать выводы на основе сравнения
2.5	определять принадлежность биологических объектов к определенной систематической группе (классификация)
2.6	проводить самостоятельный поиск биологической информации: находить в научно-популярном тексте необходимую биологическую информацию о живых организмах, процессах и явлениях; работать с терминами и понятиями Биология
3. Использовать приобретенные знания и умения в практической деятельности и повседневной жизни	
3.1	для соблюдения мер профилактики: вредных привычек (курение, алкоголизм, наркомания); нарушения осанки, зрения, слуха; инфекционных и простудных заболеваний
3.2	оказания первой помощи при простудных заболеваниях, ожогах, обморожениях, травмах, спасении утопающего
3.3	рациональной организации труда и отдыха, соблюдения правил поведения в окружающей среде

Итоговая контрольная работа по биологии для обучающихся 9 класса

Инструкция по выполнению работы.

На выполнение итоговой работы по биологии дается 45 минут. Работа состоит из трех частей, включающих 19 заданий.

Часть А содержит 13 заданий (А₁-А₁₃). К каждому заданию приводится 4 варианта ответа, из которых один верный.

Часть В включает 4 задания с кратким ответом (В₁-В₄). При выполнении заданий В₁-В₄ запишите ответ так, как указано в тексте задания.

Часть С включает 2 задания, на которые следует дать развернутый ответ. При выполнении заданий этой части запишите сначала номер задания, а затем ответ к нему.

Советуем выполнять задания в том порядке, в котором они даны. Баллы, полученные Вами за выполненные задания, суммируются. Постарайтесь выполнить как можно больше заданий и набрать наибольшее количество баллов.

Вариант 1.

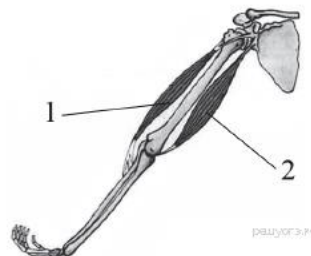
Часть А. При выполнении заданий А₁ – А₁₃ выберите из нескольких вариантов ответа один верный

А₁. Какой признак, свойственный человеку, является признаком животных типа Хордовые?

- 1) нервная система узлового типа
- 2) жаберные щели в стенке глотки зародыша
- 3) лёгкие, состоящие из альвеол
- 4) волосяной покров

А₂. На рисунке изображены бицепс (1) и трицепс (2). Что произойдёт с этими мышцами, если согнуть руку в локте?

- 1) Бицепс сократится, а трицепс расслабится.
- 2) Бицепс сократится, а трицепс не изменится.
- 3) Трицепс сократится, а бицепс расслабится.
- 4) Трицепс сократится, а бицепс не изменится.



А₃. Почему проводимая вакцинация против гриппа помогает снизить риск заболевания?

- 1) Она улучшает всасывание питательных веществ.
- 2) Она способствует выработке антител.
- 3) Она усиливает кровообращение.
- 4) Она позволяет лекарствам действовать более эффективно.

А₄. Чихание возникает при раздражении рецепторов

- 1) ротовой полости
- 2) гортани
- 3) носовой полости
- 4) трахеи

А₅. Слой, защищающий верхнюю часть зуба от механических воздействий, — это

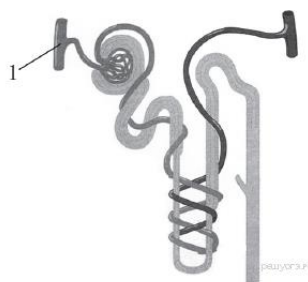
- 1) эмаль
- 2) пульпа
- 3) цемент
- 4) дентин

А₆. Какие продукты питания необходимо включить в рацион больного рахитом:

- 1) Оболочки зерен риса и отруби
- 2) апельсины, смородину, зеленый лук
- 3) рыбий жир, печень, желток яйца
- 4) яблоки, дрожжи, отруби

А₇. Рассмотрите рисунок строения нефрона. Что на нём обозначено под цифрой 1?

- 1) извитой каналец
- 2) собирательная трубка
- 3) почечная артерия
- 4) капсула нефрона



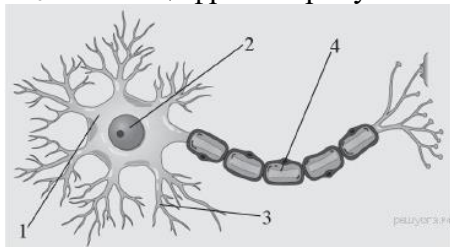
А₈. Клетками какой ткани образован наружный слой кожи?

- 1) плотной волокнистой
- 2) рыхлой волокнистой
- 3) гладкой мышечной
- 4) эпителиальной

А₉. Какая из перечисленных желёз входит в состав пищеварительной системы человека?

- 1) печень
- 2) надпочечник
- 3) гипофиз
- 4) щитовидная железа

А₁₀. Какой цифрой на рисунке обозначен аксон?



А₁₁. На языке человека имеются рецепторы, воспринимающие четыре базовых вкусовых ощущения: сладкое, кислое, солёное и

- 1) терпкое
2) горькое
А₁₂. Процесс слияния половых клеток называется:
1) опыление
2) оплодотворение
А₁₃. Какой рефлекс у человека является условным?
1) отдёргивать руку от лезвия ножа
2) проглатывать пережёванную пищу
3) ходить по определённому маршруту в школу
4) закрывать глаза, когда в лицо направляют свет

Часть В. При выполнении заданий В1-В4 запишите ответ так, как указано в тексте задания

В1. Выберите три верных ответа из шести и запишите цифры, под которыми они указаны. По венам малого круга кровообращения у человека кровь течёт

- 1) от сердца
2) к сердцу
3) насыщенная углекислым газом
4) насыщенная кислородом
5) под высоким давлением
6) под низким давлением

В2. Установите соответствие между признаком и типом авитаминоза, для которого он характерен. Для этого к каждому элементу первого столбца подберите позицию из второго столбца. Впишите в таблицу цифры выбранных ответов.

ПРИЗНАК	ТИП АВИТАМИНОЗА
А) снижение иммунитета	1) недостаток витамина С
Б) выпадение зубов	2) недостаток витамина D
В) размягчение и деформация костей черепа и конечностей	
Г) кровоточивость дёсен	
Д) нарушение мышечной и нервной деятельности	

Запишите в строку ответов выбранные цифры под соответствующими буквами.

В3. Расположите в правильном порядке процессы пищеварения, происходящие у большинства млекопитающих после попадания пищи в ротовую полость. В ответе запишите соответствующую последовательность цифр.

- 1) всасывание аминокислот в кровь
2) переваривание пищи в кишечнике под влиянием кишечного сока, поджелудочного сока и желчи
3) измельчение пищи зубами и её изменение под влиянием слюны
4) поступление питательных веществ в органы и ткани тела
5) переход пищи в желудок и её переваривание желудочным соком

В4. Вставьте в текст «Системы органов» пропущенные термины из предложенного перечня, используя для этого цифровые обозначения. Запишите в текст цифры выбранных ответов, а затем получившуюся последовательность цифр (по тексту) впишите в приведённую ниже таблицу.

СИСТЕМЫ ОРГАНОВ

В организме человека выделяют различные системы органов, среди них — пищеварительная, дыхательная, кровеносная и др. Эндокринная система — это система желез _____ (А) секреции. Они выделяют в кровь особые химические вещества — _____ (Б). Так, адреналин вырабатывается _____ (В). Благодаря другой системе органов, иммунной, в организме человека создаётся иммунитет. К органам иммунной системы относят костный мозг, вилочковую железу, _____ (Г) и др.

ПЕРЕЧЕНЬ ТЕРМИНОВ:

1. Внешняя
2. Внутренняя
3. Фермент
4. Гормон
5. Антитела
6. Селезенка
7. Надпочечники
8. Поджелудочная железа

Часть С. При выполнении заданий этой части запишите сначала номер задания, а затем ответ к нему.

С1. Используя содержание текста «Регулирование в организме численности форменных элементов крови» и знания школьного курса биологии, ответьте на вопросы.

- 1) Что означает понятие «форменные элементы крови»?
- 2) В каких жизненных ситуациях у здорового человека количество форменных элементов крови может резко измениться? Приведите не менее двух таких ситуаций.
- 3) Ион какого химического элемента входит в состав гемоглобина?

РЕГУЛИРОВАНИЕ В ОРГАНИЗМЕ ЧИСЛЕННОСТИ ФОРМЕННЫХ ЭЛЕМЕНТОВ КРОВИ

Численность форменных элементов крови должна быть оптимальной и соответствовать уровню обмена веществ, зависящему от характера и интенсивности работы органов и систем, условий существования организма. Так, при повышенной температуре воздуха, интенсивной мышечной работе и низком давлении количество клеток крови увеличивается. В этих условиях затрудняется образование оксигемоглобина, а обильное потоотделение приводит к увеличению вязкости крови, уменьшению её текучести; организм испытывает недостаток кислорода.

На эти изменения наиболее быстро реагирует вегетативная система человека: из кровяного депо выбрасывается находящаяся в нём кровь; из-за повышенной активности органов дыхания и кровообращения возникает одышка, сердцебиение; возрастает давление крови; снижается уровень обмена веществ.

При продолжительном нахождении в таких условиях включаются нейрогуморальные механизмы регуляции, активизирующие процессы образования форменных элементов. Например, у жителей горных местностей число эритроцитов повышается до 6 млн в 1 мм³, а концентрация гемоглобина приближается к верхнему пределу. У людей, занятых тяжёлым физическим трудом, отмечается хронический рост количества лейкоцитов: они активно утилизируют обломки повреждённых мышечных клеток.

Количество форменных элементов в крови контролируется рецепторами, которые располагаются во всех кроветворных и кроверазрушающих органах: красном костном мозге, селезёнке, лимфатических узлах. От них информация поступает в нервные центры головного мозга, в основном гипоталамус. Возбуждение нервных центров рефлекторно включает механизмы саморегуляции, изменяет деятельность системы крови в соответствии с требованиями конкретной ситуации. В первую очередь увеличивается скорость движения и объём циркулируемой крови. В случае, если организму не удастся быстро восстановить гомеостаз, в работу включаются железы внутренней секреции, например гипофиз.

Любое изменение характера нервных процессов в коре больших полушарий при всех видах деятельности организма отражается на клеточном составе крови. При этом включаются долгосрочные механизмы регуляции кроветворения и кроверазрушения, ведущая роль в которых принадлежит гуморальным влияниям.

Специфическое действие на образование эритроцитов оказывают витамины. Так, витамин В₁₂ стимулирует синтез гемоглобина, витамин В₆ – синтез гема, витамин В₂ ускоряет образование мембраны эритроцита, а витамин А – всасывание в кишечнике железа.

С2. По данным департамента здравоохранения многие заболевания, в том числе рак лёгких и гортани, эмфизема легких и ишемическая болезнь сердца связаны с курением. В таблице представлены данные, отражающие эту зависимость в процентах от числа обследованных людей. Изучите таблицу и ответьте на вопросы.

1) Какое заболевание представляет наибольший риск, как для некурящих, так и для курящих людей?

2) Некоторые заболевания возникают у людей, работающих в загрязнённой среде. Какие органы в большей степени подвержены риску заболевания у курильщиков?

3) Какой из органов по данным таблицы страдает от рака в большей степени в результате курения?

Рак легких в %		Рак гортани		Ишемическая болезнь сердца	
некурящие	курящие	некурящие	курящие	некурящие	курящие
2%	1-10 сигарет 3%	3%	1-10 сигарет 15%	35%	1-10 сигарет 45%
	11-20 сигарет 10%		11-20 сигарет 27%		11-20 сигарет 50%
	31-40 сигарет 35%		31-40 сигарет 50%		31-40 сигарет 62%

Система оценивания итоговой контрольной работы по биологии

Вариант 1.

Часть А.

A ₁ .	A ₂ .	A ₃ .	A ₄ .	A ₅ .	A ₆ .	A ₇ .	A ₈ .	A ₉ .	A ₁₀ .	A ₁₁ .	A ₁₂ .	A ₁₃ .
2	3	2	3	1	3	3	4	1	4	2	2	3

Часть В.

V ₁ .	246
V ₂ .	11212
V ₃ .	35214
V ₄ .	2476

Часть С.

С1. Формат ответа и критериев такой:

Содержание верного ответа и указания к оцениванию (допускаются иные формулировки ответа, не искажающие его смысл)	Балл
1) Форменные элементы крови — клетки крови эритроциты, лейкоциты и тромбоциты. 2) Например, у жителей горных местностей число эритроцитов повышается до 6 млн в 1 мм ³ , а концентрация гемоглобина приближается к верхнему пределу. У людей, занятых тяжёлым физическим трудом, отмечается хронический рост количества лейкоцитов: они активно утилизируют обломки повреждённых мышечных клеток. 3) В состав гемоглобина входит ион железа.	
Правильно заполнены три элемента	3
Правильно заполнены два элемента	2
Правильно заполнен один элемент	1
Ответ неправильный	0
Максимальный балл	3

С2. Формат ответа и критериев такой:

Содержание верного ответа и указания к оцениванию (допускаются иные формулировки ответа, не искажающие его смысл)	Балл
1) Ишемическая болезнь сердца 2) Курение увеличивает риск возникновения лёгочных заболеваний 3) Гортань	
Правильно заполнены три элемента	3
Правильно заполнены два элемента	2
Правильно заполнен один элемент	1
Ответ неправильный	0
Максимальный балл	3

